

Вариант № 386889**1. Задание 1 № 1016**

Какие из перечисленных дат относятся к монголо-татарскому нашествию на Русь?

- 1) 882—980 гг.
- 2) 980—1025 гг.
- 3) 1113—1125 гг.
- 4) 1237—1240 гг.

Пояснение.

Монголо-татарское нашествие на Русь 1237–1240 гг.

Правильный ответ указан под номером 4.

Ответ: 4

· [Видеокурс](#)

2. Задание 2 № 1398

Какое событие произошло в период Смуты в России?

- 1) битва на р. Шелони
- 2) образование Тушинского лагеря
- 3) издание Торгового устава
- 4) Соловецкое восстание

Пояснение.

В 1607 г. Лжедмитрием Вторым был устроен лагерь в подмосковном селе Тушино.

Правильный ответ указан под номером 2.

Ответ: 2

· [Видеокурс](#)

3. Задание 3 № 1329

Что явилось одним из последствий присоединения Новгорода к Московскому княжеству?

- 1) передача власти выборному должностному лицу — посаднику
- 2) прекращение деятельности новгородского вече
- 3) предоставление новгородцам права призывать себе князя
- 4) перенос в Москву кафедры русского митрополита

Пояснение.

После присоединения Новгорода к Москве было запрещено проведение вече. «Вечу и колоколу в отчине нашей Новгороде не быти...» — сказал Иван Третий.

Правильный ответ указан под номером 2.

Ответ: 2

· [Видеокурс](#)

4. Задание 4 № 1099

Прочтите отрывок из сочинения историка и укажите имя царя, упомянутого в отрывке.

«Опричнина получила назначение высшей полиции по делам государственной измены. Отряд в тысячу человек, зачисленный в опричнину и потом увеличенный до 6 тысяч, становился корпусом дозорщиков внутренней крамолы. Малюта Скуратов, т. е. Григорий Яковлевич Плещеев-Бельский, родич митрополита Алексия, был как бы шефом этого корпуса, а царь выпросил себе у духовенства, бояр и всей земли полицейскую диктатуру для борьбы с этой крамолой».

- 1) Иван III
- 2) Иван IV
- 3) Фёдор Иванович
- 4) Борис Годунов

Пояснение.

Опричнина действовала при Иване IV Грозном в 1565–1572 гг.

Правильный ответ указан под номером 2.

Ответ: 2

· [Видеокурс](#)

5. Задание 5 № [1401](#)

Какое событие произошло раньше других?

- 1) начало правления Петра II
- 2) учреждение Табели о рангах
- 3) издание указа о праве помещиков отдавать крепостных крестьян на каторгу
- 4) издание указа о трёхдневной барщине

Пояснение.

Начало правления Петра II — 1727 г.; учреждение Табели о рангах — 1722 г.; издание указа о праве помещиков отдавать крепостных крестьян на каторгу — 1765 г.; издание указа о трёхдневной барщине — 1797 г.

Правильный ответ указан под номером 2.

Ответ: 2

· [Видеокурс](#)

6. Задание 6 № [1991](#)

Какой высший государственный орган был учреждён при Петре I?

- 1) Боярская дума
- 2) Правительствующий Сенат
- 3) Кабинет министров
- 4) Государственный совет

Пояснение.

В 1711 г. Петр учредил Правительствующий Сенат.

Правильный ответ указан под номером 2.

Ответ: 2

· [Видеокурс](#)

7. Задание 7 № [742](#)

Что явилось одним из результатов внешней политики Екатерины II?

- 1) присоединение к России Финляндии
- 2) получение Россией выхода к Азовскому морю
- 3) вхождение в состав России большей части Белоруссии
- 4) получение Россией выхода к Балтийскому морю

Пояснение.

В результате разделов Речи Посполитой 1772, 1793, 1795 гг. в состав Российской империи вошла большая часть Белоруссии. Присоединение Финляндии было уже после при Александре I; выход к Азовскому и Балтийским морям Россия получила еще до правления Екатерины II.

Правильный ответ указан под номером 3.

Ответ: 3

· [Видеокурс](#)

8. Задание 8 № 953

Прочтите отрывок из исторического очерка и укажите фамилию зодчего, о котором идёт речь.

«В 1754—1762 гг. [он] создал знаменитый Зимний дворец в Петербурге, монументальные формы фасадов которого должны были отражать славу и могущество Российской империи. Сам архитектор писал об этом в донесении Сенату: «Строение каменного Зимнего дворца строится для одной славы всероссийской».

- 1) Аристотель Фиораванти
- 2) Василий Баженов
- 3) Матвей Казаков
- 4) Варфоломей Растрелли

Пояснение.

Зимний дворец был сооружён Варфоломеем Растрелли.

Правильный ответ указан под номером 4.

Ответ: 4

· [Видеокурс](#)

9. Задание 9 № 324

Укажите, кто командовал русскими войсками в сражениях Северной войны.

- 1) П. А. Румянцев
- 2) П. С. Нахимов
- 3) Б. П. Шереметев
- 4) Ф. Ф. Ушаков

Пояснение.

Б. П. Шереметев к началу Северной войны (1700—1721 гг.) за его плечами был многолетний опыт войны с крымскими татарами. Под Нарвой (1700 г.) Шереметев командовал конницей, которая успешно действовала против крымцев, но не устояла против регулярной армии Карла XII. После Нарвы Шереметев (с 1701 г. — генерал-фельдмаршал) командовал русскими войсками в Прибалтике, где одержал первые, столь необходимые для русской армии, победы при Эрестфере (1701 г.), Гуммельсгофе (1702 г.), взял Копорье (1703 г.) и Дерпт (1704 г.). Все остальные жили значительно позже и участия в Северной войне принимать не могли.

Правильный ответ указан под номером 3.

Ответ: 3

· [Видеокурс](#)

10. Задание 10 № 535

К XVI в. относится возведение

- 1) Успенского и Дмитриевского соборов во Владимире
- 2) церкви Покрова на Нерли и княжеского дворца в Боголюбове
- 3) церкви Вознесения в Коломенском и храма Василия Блаженного в Москве
- 4) дворца Алексея Михайловича в Коломенском и церкви Покрова в Филях

Пояснение.

К XVI в. относится возведение церкви Вознесения в Коломенском и храма Василия Блаженного в Москве. Остальные сооружения относятся к другим периодам времени: Успенского и Дмитриевского соборов во Владимире, церкви Покрова на Нерли и княжеского дворца в Боголюбове к XII в.; дворца Алексея Михайловича в Коломенском и церкви Покрова в Филях к XVII в.

Правильный ответ указан под номером 3.

Ответ: 3

· [Видеокурс](#)

11. Задание 11 № 431

Какое из перечисленных событий произошло позже других?

- 1) Кронштадтское восстание
- 2) разгром войск П. Н. Врангеля в Крыму
- 3) принятие первой Конституции РСФСР
- 4) наступление армии А. И. Деникина на Москву

Пояснение.

Кронштадтское восстание — 1921 г.; разгром войск П. Н. Врангеля в Крыму — 1920 г.; принятие первой Конституции РСФСР — 1918 г.; наступление армии А. И. Деникина на Москву — 1919 г.

Правильный ответ указан под номером 1.

Ответ: 1

· [Видеокурс](#)

12. Задание 12 № 327

Как называлось правительство СССР в конце 1930-х гг.?

- 1) Всесоюзный Центральный исполнительный комитет
- 2) Совет Народных Комиссаров СССР
- 3) Верховный Совет СССР
- 4) Совет Министров СССР

Пояснение.

Совет народных комиссаров СССР (СНК, Совнарком) — с 6 июля 1923 по 15 марта 1946 гг. высший исполнительный и распорядительный (в первый период существования также и законодательный) орган СССР, его правительство.

Правильный ответ указан под номером 2.

Ответ: 2

· [Видеокурс](#)

13. Задание 13 № 1444

Что стало одним из последствий деятельности Венского конгресса?

- 1) участие России в действиях III антифранцузской коалиции
- 2) континентальная блокада Англии
- 3) создание Священного союза
- 4) подписание Бухарестского мирного договора между Россией и Турцией

Пояснение.

На Венском конгрессе монархи Европы для борьбы с революциями создали Священный союз, в составе России, Австрии и Пруссии.

Правильный ответ указан под номером 3.

Ответ: 3

· [Видеокурс](#)

14. Задание 14 № 434

Командирами крупных партизанских соединений в годы Великой Отечественной войны были

- 1) И. В. Панфилов и Л. М. Доватор
- 2) А. Н. Сабуров и С. А. Ковпак

3) Н. Ф. Ватутин и И. Д. Черняховский

4) В. И. Чуйков и М. С. Шумилов

Пояснение.

А. Н. Сабуров и С. А. Ковпак были командирами крупных партизанских соединений в годы Великой Отечественной войны. Александр Николаевич Сабуров (1908–1974 гг.) — советский военачальник, генерал-майор, командир партизанского соединения, Герой Советского Союза (1942 г.). С марта 1942 до апреля 1944 года командовал партизанским соединением, которое действовало в Сумской, Житомирской, Волынской, Ровенской и других областях Украины, а также Брянской и Орловской областях России и в южных районах Белоруссии. Сидор Артемьевич (Артёмович) Ковпак (укр. Сидір Артемович Ковпак; 1887–1967 гг.) — командир Путивльского партизанского отряда (позднее — Сумского партизанского соединения, ещё позднее — 1-й Украинской партизанской дивизии), член ЦК КП(б) Украины, генерал-майор. Дважды Герой Советского Союза. Все остальные командиры регулярных частей Красной армии: Ватутин и Черняховский — командующие фронтами; Чуйков и Шумилов — командующие армиями; Панфилов и Доватор — командующие дивизиями.

Правильный ответ указан под номером 2.

Ответ: 2

· [Видеокурс](#)

15. Задание 15 № 85

Прочтите отрывок из сводки Совинформбюро и укажите год, о событиях которого идёт речь.

«Войска 2-го Украинского фронта, продолжая стремительное наступление, несколько дней назад форсировали реку Днестр на участке протяжением 175 километров, овладели городом и важным железнодорожным узлом Бельцы и, развивая наступление, вышли на нашу Государственную границу — реку Прут — на фронте протяжением в 85 километров».

1) 1941 г.

2) 1942 г.

3) 1943 г.

4) 1944 г.

Пояснение.

26 марта 1944 г. — Выход Советской Армии к государственной границе СССР на р. Прут.

Правильный ответ указан под номером 4.

Ответ: 4

· [Видеокурс](#)

16. Задание 16 № 786

В каком году состоялась XIX Всесоюзная партийная конференция, провозгласившая курс на реформу политической системы?

1) 1956 г.

2) 1977 г.

3) 1988 г.

4) 1991 г.

Пояснение.

XIX Всесоюзная партийная конференция, проходившая в 1988 г., широко обсудила и приняла крупные решения по углублению перестройки, реформе политической системы, дальнейшей демократизации партии и общества.

Правильный ответ указан под номером 3.

Ответ: 3

· [Видеокурс](#)

17. Задание 17 № 1067

Какой из документов был принят в годы перестройки?

- 1) закон «О кооперации в СССР»
- 2) постановление «О журналах «Звезда» и «Ленинград»
- 3) указ о передаче Крыма из состава РСФСР в состав Украинской ССР
- 4) декрет о рабочем контроле

Пояснение.

«Перестройка» — 1985—1991 гг.; закон «О кооперации в СССР» — 1988 г.; постановление «О журналах «Звезда» и «Ленинград» — 1946 г.; указ о передаче Крыма из состава РСФСР в состав Украинской ССР — 1954 г.; декрет о рабочем контроле — 1917 г.

Правильный ответ указан под номером 1.

Ответ: 1

· [Видеокурс](#)

18. Задание 18 № 2073

Прочтите отрывок из исторического источника и укажите название страны, пропущенное в тексте.

«Либерализация партийной и общественной жизни, начавшаяся в ... после отставки сталиниста Новотного, была жестоко подавлена. Сначала на многочисленных встречах Брежнев и его окружение пытались внушить новым лидерам местных коммунистов во главе с А. Дубчеком недопустимость в стране свободы слова, собраний и прочих "вольностей", а потом в августе 1968 г. к "непонятливым товарищам" был применён "вариант 1956 года". Исторические документы свидетельствуют, что сам Брежнев, не отличавшийся кровожадностью, не ратовал за интервенцию в братскую страну. Но во имя сохранения собственной власти он не мог не считаться с "ястребами" в Политбюро (П. Шелест и др.), но более всего он опасался давления со стороны военной верхушки».

- 1) Чехословакия
- 2) Польша
- 3) Румыния
- 4) Югославия

Пояснение.

Речь идет о Пражской весне, страна Чехословакия.

Правильный ответ указан под номером 1.

Ответ: 1

· [Видеокурс](#)

19. Задание 19 № 1380

Кто был Генеральным секретарём ЦК КПСС в начале 1990-х гг.?

- 1) К.У. Черненко
- 2) М.С. Горбачёв
- 3) Б.Н. Ельцин
- 4) Ю.В. Андропов

Пояснение.

К.У. Черненко — 1984–1985 гг.; М.С. Горбачёв — 1985–1991 гг.; Б.Н. Ельцин — не был; Ю.В. Андропов — 1982–1984 гг.

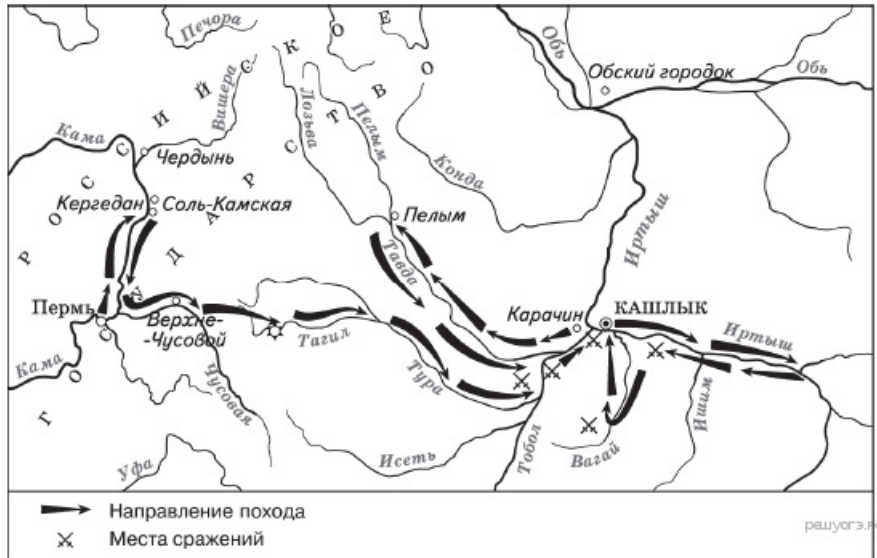
Правильный ответ указан под номером 2

Ответ: 2

· [Видеокурс](#)

20. Задание 20 № 266

Рассмотрите схему и выполните задание.



Назовите исторического деятеля, который совершил поход по маршруту, представленному на схеме.

- 1) Владимир Атласов
- 2) Ермак Тимофеевич
- 3) Ерофей Хабаров
- 4) Семён Дежнёв

Пояснение.

Это поход атамана Ермака Тимофеевича в 1581–1584 гг.

Правильный ответ указан под номером 2.

Ответ: 2

· [Видеокурс](#)

21. Задание 21 № 125

Архитектурный стиль, господствовавший в советской архитектуре 1920-х — начала 1930-х гг., получил название

- 1) классицизм
- 2) модерн
- 3) конструктивизм
- 4) ампи́р

Пояснение.

Конструктивизм — советский авангардистский метод (направление) в изобразительном искусстве, архитектуре, фотографии и декоративно-прикладном искусстве, получивший развитие в 1920 — первой половине 1930 годов.


Правильный ответ указан под номером 3.

Ответ: 3

· [Видеокурс](#)

22. Задание 22 № 1002

Рассмотрите изображение и выполните задание.



решуогэ.рф

Укажите название площади, события на которую показаны на картине.

- 1) Дворцовая
- 2) Вознесенская
- 3) Сенатская
- 4) Красная

Пояснение.

Здесь изображено восстание декабристов на Сенатской площади.

Правильный ответ указан под номером 3.

Ответ: 3

· [Видеокурс](#)

23. Задание 23 № 1419

Расположите в хронологическом порядке следующие события. Укажите ответ в виде последовательности цифр выбранных элементов.

- 1) создание полков «иноземного строя»
- 2) учреждение первых министерств
- 3) поход хана Тохтамыша на Москву
- 4) присоединение Новгородских земель к Московскому княжеству

Пояснение.

- 1) создание полков «иноземного строя» — XVII в.
- 2) учреждение первых министерств — 1802 г.
- 3) поход хана Тохтамыша на Москву — 1382 г.
- 4) присоединение Новгородских земель к Московскому княжеству — 1478 г.

Ответ: 3412.

Ответ: 3412

· [Видеокурс](#)

24. Задание 24 № 129

Установите соответствие между событиями внешней политики и годами, когда они происходили: к каждому элементу первого столбца подберите соответствующий элемент из

второго столбца.

СОБЫТИЯ ВНЕШНЕЙ ПОЛИТИКИ	ГОДЫ
А) подписание Брестского мира с Германией	1) 1918 г.
Б) конфликт на озере Хасан	2) 1923 г.
В) подписание советско-германского договора о ненападении	3) 1938 г.
	4) 1939 г.

Запишите в ответ цифры, расположив их в порядке, соответствующем буквам:

А	Б	В

Пояснение.

А) подписание Брестского мира с Германией — 1918 г.

Б) конфликт на озере Хасан — 1938 г.

В) подписание советско-германского договора о ненападении — 1939 г.

Ответ: 134.

Ответ: 134

· [Видеокурс](#)

25. Задание 25 № 1005

Какие из перечисленных событий относятся к царствованию Александра II? Укажите два верных положения и запишите цифры, под которыми они указаны.

1) создание Государственного совета

2) судебная реформа

3) создание военных поселений

4) отмена крепостного права

5) восстание декабристов

Пояснение.

В царствование Александра II была проведена судебная реформа в 1864 г. и отменено крепостное право в 1861 г.

Ответ: 24.

Ответ: 24

· [Видеокурс](#)

26. Задание 26 № 1352

Используя данные статистической таблицы, завершите представленные ниже суждения, соотнеся их начала и варианты завершения.

Импорт зерна СССР, Японией, ФРГ, млн т

Год	СССР	Япония	ФРГ
1970	2,2	15,8	8,1
1975	15,9	19,0	6,8
1980	29,4	24,7	5,2

НАЧАЛЬНЫЕ ЧАСТИ СУЖДЕНИЯ

ВАРИАНТЫ ЗАВЕРШЕНИЯ

- | | |
|--|--|
| <p>А) Объём импорта зерна постоянно увеличивался</p> <p>Б) СССР импортировал зерна меньше, чем ФРГ в</p> <p>В) Объём импорта зерна СССР почти достиг объёма суммарного импорта зерна Японией и ФРГ в</p> | <p>СУЖДЕНИЯ</p> <p>1) 1970 г.</p> <p>2) 1975 г.</p> <p>3) 1980 г.</p> <p>4) всеми странами, представленными в таблице</p> <p>5) не всеми странами, представленными в таблице</p> |
|--|--|

Запишите в ответ цифры, расположив их в порядке, соответствующем буквам:

А	Б	В

Пояснение.

Объём импорта зерна постоянно увеличивался не всеми странами, представленными в таблице.

СССР импортировал зерна меньше, чем ФРГ в 1970 г.

Объём импорта зерна СССР почти достиг объёма суммарного импорта зерна Японией и ФРГ в 1980 г.

Ответ: 513.

Ответ: 513

· [Видеокурс](#)

27. Задание 27 № 1077

Запишите термин, о котором идет речь

«Художественный стиль и направление в искусстве XVIII в., основанное на подражании античным образцам, стремлении к выражению возвышенных героических и нравственных идеалов».

Пояснение.

Речь идет о классицизме.

Ответ: классицизм.

Ответ: классицизм

· [Видеокурс](#)

28. Задание 28 № 728

Сравните черты государственной идеологии в СССР в периоды «оттепели» и «застоя». Выберите и запишите в первую колонку порядковые номера черт сходства, а во вторую — порядковые номера черт различия.

- 1) критика культа личности И.В. Сталина с трибуны партийных съездов
- 2) закрепление в Конституции СССР положения о построении в СССР общества развитого социализма
- 3) недопустимость критики существующего в СССР политического строя
- 4) признание одной из важнейших задач необходимости противостояния лагерю капиталистических стран

Черты сходства	Черты различия

Пояснение.

Сходства: недопустимость критики существующего в СССР политического строя; признание одной из важнейших задач необходимости противостояния лагерю капиталистических стран.

Различия: критика культа личности И. В. Сталина с трибуны партийных съездов; закрепление в Конституции СССР положения о построении в СССР общества развитого социализма.

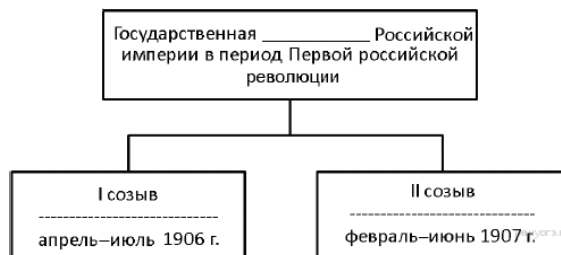
Ответ: 3412.

Ответ: 3412

· [Видеокурс](#)

29. Задание 29 № 1688

Запишите название, пропущенное в схеме.

**Пояснение.**

На схеме указана Государственная Дума.

Ответ: Дума.

Ответ: дума

· [Видеокурс](#)

30. Задание 30 № 590

Ниже приведён перечень терминов (сокращений). Все они, за исключением одного, относятся к событиям, явлениям периода 1945–1953 гг.

- 1) Коминформ
- 2) ООН
- 3) СЭВ
- 4) НАТО
- 5) ГКЧП

Найдите и укажите порядковый номер термина, «выпадающего» из данного ряда.

Пояснение.

ГКЧП был организован 19 августа 1991 г.

Правильный ответ указан под номером 5.

Ответ: 5

· [Видеокурс](#)

31. Задание 31 № 1690

Укажите название политики советского правительства, пропущенное в тексте. Назовите руководителя советского правительства в этот период.

Отрывок из сочинения историка

«Утверждение советского правительства и первые революционные преобразования большевиков осуществлялись в условиях Гражданской войны. Экономическая политика

большевиков, проводимая ими в годы Гражданской войны, получила название <...>. Она реализовывалась для обеспечения победы в войне посредством централизации всех ресурсов и основывалась на командно-волевых мерах государственного принуждения. Итоги периода войн и революций оказались крайне тяжёлыми. Колоссальные человеческие жертвы, обезлюдевшие города. Промышленность и транспорт лежали в руинах. Безудержно нарастала инфляция. Посевные площади сократились на 25%, так как крестьяне не были заинтересованы в расширении хозяйства. Производство сельскохозяйственной продукции упало до 60% от довоенного объёма.

Продолжение политики советского правительства, осуществлявшейся в условиях Гражданской войны, не помогало преодолеть хозяйственную разруху, но спровоцировало рост недовольства населения, который привёл к массовым антибольшевистским выступлениям. Ситуация в стране ещё более усугубилась начавшимся после неурожаев голодом 1921–1922 гг., из-за которого Советская Россия понесла тяжёлые человеческие утраты».

Пояснение.

- 1) название политики — «военный коммунизм»;
- 2) руководитель советского правительства — В. И. Ленин.

Критерии проверки:

Критерии оценивания выполнения задания	Баллы
Правильно указано название политики и назван руководитель советского правительства.	2
Правильно названа только политика. ИЛИ Правильно назван только руководитель советского правительства.	1
Ответ неправильный.	0
<i>Максимальный балл</i>	2

· [Видеокурс](#)

32. Задание 32 № 1691

Найдите в отрывке и выпишите предложение, содержащее положение, которое подтверждается фактами, приведёнными в последующем тексте. Укажите не менее двух фактов, приведённых для подтверждения этого положения.

Пояснение.

В ответе должно быть указано предложение: «Итоги периода войн и революций оказались крайне тяжёлыми».

Могут быть указаны следующие факты:

- 1) колоссальные человеческие жертвы;
- 2) уменьшение численности городского населения;
- 3) развал промышленности и транспортной системы;
- 4) безудержный рост инфляции;
- 5) сокращение посевных площадей;
- 6) сокращение объёмов сельскохозяйственного производства.

Критерии проверки:

Критерии оценивания выполнения задания	Баллы
Правильно указаны предложение (или в иных формулировках верно передан его смысл) и два факта.	2
Правильно указаны предложение (или в иных формулировках верно передан его смысл) и один факт.	1
Правильно указано только предложение (или в иных формулировках верно передан его смысл). ИЛИ	

Правильно указаны только факты (любое количество). ИЛИ Ответ неправильный.	0
<i>Максимальный балл</i>	2

· [Видеокурс](#)

33. Задание 33 № 173

Рабочие предприятия узнали о новом декрете «О восьмичасовом рабочем дне». Однако владелец предприятия решил не подчиняться постановлениям новой власти, сохранив старые порядки. После того как профсоюз рабочих объявил забастовку и был поддержан местным советом, владелец предприятия забрал все деньги из кассы предприятия, продал весь товар, который был на складе, и больше на заводе не появлялся. Через некоторое время рабочие приняли решение установить на предприятии рабочий контроль.

- 1) Укажите год (годы), когда могли произойти данные события.
- 2) Как называлось новое правительство, издавшее упомянутый выше декрет?
- 3) Как в дальнейшем государство поступило с теми предприятиями, где был установлен рабочий контроль или которые покинул владелец предприятия?

Пояснение.

Правильный ответ должен содержать следующие элементы:

- 1) 1917—1918 гг.;
- 2) Совнарком или СНК;
- 3) предприятия были национализированы.

Критерии проверки:

Критерии оценивания выполнения задания	Баллы
Правильно указаны название войны, фамилия и причина	3
Правильно указаны два любые элемента ответа	2
Правильно указан один любой элемент ответа	1
Ответ неправильный	0
<i>Максимальный балл</i>	3

· [Видеокурс](#)

34. Задание 34 № 874

Известно, что политика советского руководства в сфере культуры в 1930-е гг. отличалась от политики, проводимой в этой сфере в 1920-е гг. Однако существует точка зрения, что политика в сфере культуры в указанные периоды имела и общие черты. Приведите не менее двух фактов, подтверждающих данную точку зрения.

Пояснение.

Могут быть приведены факты:

- 1) государство старалось поддерживать (финансировало выпуск фильмов, книг, заказывало картины) тех авторов, кто помогал ему своими работами укреплять советскую власть;
- 2) функционирование различных союзов деятелей культуры;
- 3) наличие цензуры.

Могут быть приведены другие факты.

Критерии проверки:

Критерии оценивания выполнения задания	Баллы
Правильно приведены два положения	2
Правильно приведено одно положение	1
Приведены рассуждения общего характера, не соответствующие требованию задания. ИЛИ	0

Ответ неправильный	
Максимальный балл	2

· [Видеокурс](#)

35. Задание 35 № 665

Вам поручено составить развёрнутый ответ по теме «Особенности экономического развития СССР в 1920-х гг.». Составьте план, в соответствии с которым Вы будете освещать эту тему. План должен содержать не менее трёх пунктов. Напишите краткое пояснение содержания любых двух пунктов. План с пояснениями должен отразить основные события (явления), связанные с особенностями развития экономики СССР в 1920-х гг.

Пояснение.

Один из вариантов плана раскрытия данной темы

1. Ситуация в экономике Советской России к концу Гражданской войны. Итоги и значение «военного коммунизма».

2. Отмена продовольственной развёрстки и замена её продо-вольственным налогом. Восстановление рыночных отношений в экономике:

а) восстановление частной торговли и промышленности;

б) сохранение «командных высот» в промышленности у государства при переводе её на хозяйственный расчёт;

в) привлечение иностранного капитала в форме концессий;

г) проведение финансовой реформы Г. Я. Сокольникова, создание устойчивой финансовой системы.

3. Кризисы в экономике в период проведения нэпа.

Неравномерное по времени восстановление сельского хозяйства и промышленности; постоянные попытки государства ограничить рост, а позднее ликвидировать частный сектор экономики; низкий уровень накопления капитала в среде самого массового потребителя — крестьянства; восстановление экономики к концу 1920-х гг. лишь до уровня развития царской России.

4. Итоги развития экономики в период 1920-х гг.

В период новой экономической политики советская экономика смогла преодолеть негативные последствия Гражданской войны. Однако к концу 1920-х гг. был достигнут лишь уровень, на котором Российская империя находилась накануне Первой мировой войны, и советское руководство посчитало необходимым изменить свою политику в области развития экономики, приняв курс на индустриализацию и коллективизацию.

Возможны другое количество и(или) иные корректные формулировки пунктов плана. Они могут быть представлены в назывной, вопросной или смешанной формах. Пояснения могут быть приведены в форме подпунктов (п. 2), нумерованного перечня позиций (п. 3), комментариев в свободной форме (п. 4).

Критерии проверки:

Критерии оценивания выполнения задания	Баллы
План содержит не менее трёх пунктов, к двум из которых даны пояснения. Формулировки пунктов плана и пояснений отражают содержание темы (выбранного вопроса); в пояснениях без фактических ошибок приведены основные исторические события, раскрывающие содержание пунктов плана	3
План содержит не менее трёх пунктов, к одному из которых дано пояснение. Формулировки пунктов плана и пояснения отражают содержание темы (выбранного вопроса); в пояснении без фактических ошибок приведены основные исторические события, раскрывающие содержание пункта плана. ИЛИ План содержит два пункта, к обоим даны пояснения. Формулировки пунктов плана и пояснений отражают содержание темы (выбранного вопроса); в пояснениях без фактических ошибок приведены основные исторические события, раскрывающие содержание пунктов плана.	2

<p>ИЛИ План содержит не менее трёх пунктов, к двум из которых даны пояснения. Формулировки пунктов плана отражают содержание темы (выбранного вопроса). В пояснениях к одному-двум пунктам плана наряду с верными позициями содержатся фактические ошибки, существенно не искажающие ответа; ИЛИ в пояснениях к одному-двум пунктам плана представлены верные, но не основные, а только частные факты, не в полной мере раскрывающие содержание пунктов плана</p>	
<p>План содержит не менее трёх пунктов без пояснений; ИЛИ в качестве пояснений приведены рассуждения общего характера, не содержащие конкретной информации по теме. Формулировки пунктов плана отражают содержание темы (выбранного вопроса) и не содержат фактических ошибок. ИЛИ План содержит два пункта, к одному из которых дано пояснение. Формулировки пунктов плана и пояснения отражают содержание темы (выбранного вопроса); без фактических ошибок приведены основные исторические события, раскрывающие содержание пунктов плана. ИЛИ План содержит не менее трёх пунктов, к одному из которых дано пояснение. Формулировки пунктов плана отражают содержание темы (выбранного вопроса). В пояснении к пункту плана наряду с верными позициями содержатся фактические ошибки, существенно не искажающие ответа; ИЛИ в пояснениях к пункту плана представлены верные, но не основные, а только частные факты, не в полной мере раскрывающие содержание пунктов плана ИЛИ План содержит не менее двух пунктов, к обоим дано пояснение. Формулировки пунктов плана и пояснений в целом отражают содержание темы (выбранного вопроса), но допущена одна фактическая ошибка, значительно искажающая её содержание. ИЛИ Пункты плана имеют общий характер и не отражают содержания темы (выбранного вопроса), но приведённые к трем (или более) пунктам пояснения не содержат фактических ошибок и раскрывают некоторые аспекты темы (выбранного вопроса).</p>	1
<p>План содержит два пункта без пояснений; ИЛИ в качестве пояснений приведены рассуждения общего характера, не содержащие конкретной информации по теме. ИЛИ План содержит менее двух пунктов независимо от качества пояснений. ИЛИ Пункты плана не отражают содержания темы (выбранного вопроса). Приведённые к одному-двум пунктам пояснения не содержат фактических ошибок и раскрывают некоторые аспекты темы. ИЛИ В пунктах плана и пояснениях допущено две или более фактические ошибки, искажающие содержание темы (выбранного вопроса) ИЛИ план отражает вопрос (раздел, направление, проблему), который не является составной частью темы, указанной в задании</p>	0
<p><i>Максимальный балл</i></p>	3

· [Видеокурс](#)

Ключ

№ п/п	№ задания	Ответ
1	1016	4
2	1398	2
3	1329	2
4	1099	2
5	1401	2
6	1991	2
7	742	3
8	953	4
9	324	3
10	535	3
11	431	1
12	327	2
13	1444	3
14	434	2
15	85	4
16	786	3
17	1067	1
18	2073	1
19	1380	2
20	266	2
21	125	3
22	1002	3
23	1419	3412
24	129	134
25	1005	24
26	1352	513
27	1077	классицизм
28	728	3412
29	1688	дума
30	590	5