

Вариант № 386882

1. Задание 1 № 1660

Какое из перечисленных событий произошло раньше других?

- 1) Ледовое побоище
- 2) битва на р. Калке
- 3) Грюнвальдская битва
- 4) стояние на р. Угре

Пояснение.

Ледовое побоище — 1242 г.; битва на р. Калке — 1223 г.; Грюнвальдская битва — 1410 г.; стояние на р. Угре — 1480 г.

Правильный ответ указан под номером 2.

Ответ: 2

· [Видеокурс](#)

2. Задание 2 № 1661

Какое событие относится к периоду правления Ивана IV?

- 1) вхождение Восточной Сибири в состав Российского государства
- 2) Смоленская война
- 3) Ливонская война
- 4) окончательная ликвидация зависимости Руси от Орды

Пояснение.

Годы правления Ивана Грозного 1547–1583 гг.; вхождение Восточной Сибири в состав Российского государства — XVII в; Смоленская война 1632–1634 гг.; Ливонская война 1558–1583 гг.; окончательная ликвидация зависимости Руси от Орды — 1480 г.

Правильный ответ указан под номером 3.

Ответ: 3

· [Видеокурс](#)

3. Задание 3 № 1988

В результате восстания древлян в 945 г.

- 1) произошёл распад Древнерусского государства
- 2) Киев потерял статус центра Древнерусского государства
- 3) погиб киевский князь Игорь
- 4) произошло Крещение Руси

Пояснение.

В результате восстания древлян в 945 г. убили князя Игоря.

Правильный ответ указан под номером 3.

Ответ: 3

· [Видеокурс](#)

4. Задание 4 № 1054

Прочтите отрывок из древнерусской летописи и укажите имя князя, о котором идёт речь.

«Сказал (он) матери своей и боярам своим: «Не люблю мне сидеть в Киеве, хочу жить в Переяславце на Дунае — ибо там середина земли моей, туда стекаются все блага: из Греческой земли — золото, паволоки, вина, различные плоды, из Чехии и из Венгрии серебро и кони, из Руси же меха и воск, мёд и рабы».

- 1) Олег
- 2) Игорь
- 3) Святослав
- 4) Ярослав

Пояснение.

Переяславец хотел сделать столицей своего государства князь Святослав.

Правильный ответ указан под номером 3.

Ответ: 3

· [Видеокурс](#)

5. Задание 5 № 670

В каком году был основан г. Санкт-Петербург?

- 1) 1703 г.
- 2) 1710 г.
- 3) 1715 г.
- 4) 1723 г.

Пояснение.

Санкт-Петербург основан 27 мая 1703 г. Петром Первым. Город был назван в честь святого апостола Петра. Первоначальное название SanktPiterburh была имитацией голландского произношения Sint Petersburg: Пётр жил и учился некоторое время в Нидерландах.

Правильный ответ указан под номером 1.

Ответ: 1

· [Видеокурс](#)

6. Задание 6 № 1522

Какое из названных сражений произошло в ходе русско-японской войны?

- 1) штурм крепости Измаил
- 2) оборона Шипкинского перевала
- 3) Мукденское сражение
- 4) Брусиловский прорыв

Пояснение.

Русско-японская война — 1904–1905 гг.; штурм крепости Измаил — 1790 г.; оборона Шипкинского перевала — 1877–1878 гг.; Мукденское сражение — 1905 г.; Брусиловский прорыв — 1916 г.

Правильный ответ указан под номером 3.

Ответ: 3

· [Видеокурс](#)

7. Задание 7 № 742

Что явилось одним из результатов внешней политики Екатерины II?

- 1) присоединение к России Финляндии
- 2) получение Россией выхода к Азовскому морю
- 3) вхождение в состав России большей части Белоруссии
- 4) получение Россией выхода к Балтийскому морю

Пояснение.

В результате разделов Речи Посполитой 1772, 1793, 1795 гг. в состав Российской империи вошла большая часть Белоруссии. Присоединение Финляндии было уже после при Александре I; выход к Азовскому и Балтийским морям Россия получила еще до правления Екатерины II.

Правильный ответ указан под номером 3.

Ответ: 3

· [Видеокурс](#)

8. Задание 8 № 568

Прочтите отрывок из указа императора и укажите этого императора.

«1. Учреждение Лицея имеет целью образование юношества, особенно предназначенного к важным частям службы Государственной. <...>

3. В Лицее преподаются предметы учения, важным частям Государственной службы приличные и для благовоспитанного юноши необходимо нужные. <...>

14. Лицей в правах и преимуществах своих совершенно равняется с Российскими Университетами».

- 1) Пётр III
- 2) Екатерина II
- 3) Павел I
- 4) Александр I

Пояснение.

Лицей был основан по указу императора Александра I, подписанному 24 (12) августа 1810 года.

Правильный ответ указан под номером 4.

Ответ: 4

· [Видеокурс](#)

9. Задание 9 № 464

Присоединение Среднего и Нижнего Поволжья к России относится к результатам внешней политики

- 1) Василия III
- 2) Ивана IV
- 3) Петра I
- 4) Екатерины II

Пояснение.

Иван IV в 1552 г. присоединил земли Казанского ханства, а в 1556 г. земли Астраханского ханства. К России отошло все Поволжье.

Правильный ответ указан под номером 2.

Ответ: 2

· [Видеокурс](#)

10. Задание 10 № 150

Какое из перечисленных событий относится к XVI в.?

- 1) строительство первых каменных храмов в Киеве и Новгороде
- 2) создание древнейшей дошедшей до нас летописи
- 3) издание первой печатной книги в России
- 4) открытие Славяно-греко-латинского училища в Москве

Пояснение.

В 1564 г. была напечатана Иваном Федоровым первая печатная книга.

Правильный ответ указан под номером 3.

Ответ: 3

· [Видеокурс](#)

11. Задание 11 № 1565

Укажите год, когда была принята первая Конституция СССР.

- 1) 1917 г.
- 2) 1924 г.
- 3) 1929 г.
- 4) 1936 г.

Пояснение.

Первая Конституция СССР была принята в 1924 г.

Правильный ответ указан под номером 2.

Ответ: 2

· [Видеокурс](#)

12. Задание 12 № 852

Какая страна разорвала дипломатические отношения с СССР во второй половине 1920-х гг.?

- 1) Англия
- 2) США
- 3) Германия
- 4) Франция

Пояснение.

Во второй половине 20-ых гг. дипломатические отношения с СССР разорвала Англия. В 1926 г. Англию потрясла грандиозная стачка горняков, которым значительную помощь оказали советские профсоюзы. Правительство Великобритании обвинило СССР во вмешательстве во внутренние дела Объединённого Королевства. В мае 1927 г. британская полиция разгромила советское торгпредство в Лондоне и штаб-квартиру советского кооперативного общества по торговле с Англией (АРКОС). После этого последовал разрыв дипломатических отношений с СССР.

Правильный ответ указан под номером 1.

Ответ: 1

· [Видеокурс](#)

13. Задание 13 № 1494

Что стало одной из причин хлебозаготовительного кризиса 1927 г.?

- 1) проведение сплошной коллективизации сельского хозяйства СССР
- 2) установление низких закупочных цен на зерно
- 3) введение продразвёрстки
- 4) массовый голод в СССР

Пояснение.

Главной причиной хлебозаготовительного кризиса 1927 г. стало установление низких закупочных цен на зерно.

Правильный ответ указан под номером 2.

Ответ: 2

· [Видеокурс](#)

14. Задание 14 № 854

В ходе Сталинградской битвы

- 1) состоялось крупнейшее танковое сражение у д. Прохоровка
- 2) Красная армия вела тяжёлые бои на Зееловских высотах
- 3) были освобождены г. Орёл и Белгород
- 4) проходила оборона Дома Павлова

Пояснение.

В ходе Сталинградской битвы проходила оборона Дома Павлова. Борьба за Дом Павлова — один из многих примеров героизма советских людей в дни битвы за Сталинград. Бойцы приспособили дом к круговой обороне. За пределы его вынесли огневые точки, к ним проделали подземные ходы сообщения. Все остальные ответы неверны: состоялось крупнейшее танковое сражение у д. Прохоровка и были освобождены г. Орёл и Белгород в ходе Курской битвы. Красная армия вела тяжёлые бои на Зееловских высотах в ходе Берлинской операции.

Правильный ответ указан под номером 4.

Ответ: 4

· [Видеокурс](#)

15. Задание 15 № 1446

Прочтите отрывок из сочинения историка и укажите военачальника, фамилия которого пропущена в тексте.

«Полевая армия не сумела остановить союзников на суше, а парусный Черноморский флот не мог противостоять бронированным пароходам неприятеля. <...> Программа строительства военных «винтовых» судов была принята только в 1851 году, и к началу войны в строй вступил лишь один пароход-фрегат. Максимальная централизация управления и бюрократический контроль оказались неэффективными: семь с половиной суток мчался на перекладных фельдъегерь от главнокомандующего князя, чтобы передать весть о поражении на реке Альме, и столько же времени добирался назад с инструкциями самодержца. Известия о сражениях под Севастополем быстрее поступали в Петербург из Парижа, столицы воюющей с Россией Франции, так как до середины 1855 года отсутствовала телеграфная связь с югом страны <... >».

- 1) М.А. Милорадович
- 2) И.В. Гурко
- 3) А.С. Меншиков
- 4) М.Д. Скобелев

Пояснение.

А.С. Меншиков командовал сухопутной армией в Крыму в годы Крымской войны.

Правильный ответ указан под номером 3.

Ответ: 3

· [Видеокурс](#)

16. Задание 16 № 1111

Какое событие произошло в 1950-х гг.?

- 1) отставка Н.С. Хрущёва
- 2) принятие Конституции СССР
- 3) I Съезд народных депутатов СССР
- 4) XX съезд КПСС

Пояснение.

XX съезд партии — февраль 1956 г.

Правильный ответ указан под номером 4.

Ответ: 4

· [Видеокурс](#)

17. Задание 17 № 717

Какое событие связано с внешней политикой СССР в годы «перестройки»?

- 1) ввод войск Организации Варшавского договора в Чехословакию
- 2) подписание договора о прекращении ядерных испытаний в атмосфере, в космосе и под водой
- 3) подписание Заключительного акта Совещания по безопасности и сотрудничеству в Европе
- 4) вывод советских войск из Афганистана

Пояснение.

Ввод войск Организации Варшавского договора в Чехословакию — 1968 г.; подписание договора о прекращении ядерных испытаний в атмосфере, в космосе и под водой — 1963 г.; подписание Заключительного акта Совещания по безопасности и сотрудничеству в Европе — 1975 г.; вывод советских войск из Афганистана — 1989 г.

Правильный ответ указан под номером 4.

Ответ: 4

· [Видеокурс](#)

18. Задание 18 № 228

Прочтите отрывок из Указа и укажите руководителя страны, который подписал этот Указ.

«В соответствии с постановлением Съезда народных депутатов РСФСР постановляю:

1. Осуществить переход на применение свободных рыночных цен и тарифов, складывающихся под влиянием спроса и предложения, на продукцию производственно-технического назначения, товары народного потребления, работы и услуги.
2. Государственные закупки сельскохозяйственной продукции также производить по свободным (рыночным) ценам...»

- 1) Б. Н. Ельцин
- 2) М. С. Горбачёв
- 3) К. У. Черненко
- 4) Д. А. Медведев

Пояснение.

Указ о переходе на свободные рыночные цены (1991 г.) осуществил Ельцин Б. Н.

Правильный ответ указан под номером 1.

Ответ: 1

· [Видеокурс](#)

19. Задание 19 № 509

Конструкторами советских боевых самолётов были

- 1) С. В. Ильюшин и А. С. Яковлев
- 2) Г. С. Шпагин и В. А. Дегтярёв
- 3) И. В. Курчатов и С. П. Королёв
- 4) М. И. Кошкин и Ж. Я. Котин

Пояснение.

С. В. Ильюшин и А. С. Яковлев — авиаконструкторы. Сергей Владимирович Ильюшин (18 (30) марта 1894 г., дер. Делялево, Вологодская губерния — 9 февраля 1977 г., Москва) — выдающийся советский авиаконструктор. Трижды Герой Социалистического Труда (1941 г., 1957 г., 1974 г.), семикратный лауреат Сталинской премии, генерал-полковник инженерных войск (1957 г.), академик АН СССР (1968 г.). Александр Сергеевич Яковлев (19 марта (1 апреля) 1906 г., Москва — 22 августа 1989 г., Москва) — советский авиаконструктор, генерал-полковник авиации (1946 г.). Академик АН СССР (1976 г.), дважды Герой Социалистического Труда, десятикратный кавалер ордена Ленина, Депутат ВС СССР в 1946–1989 гг., референт Сталина по вопросам авиации.

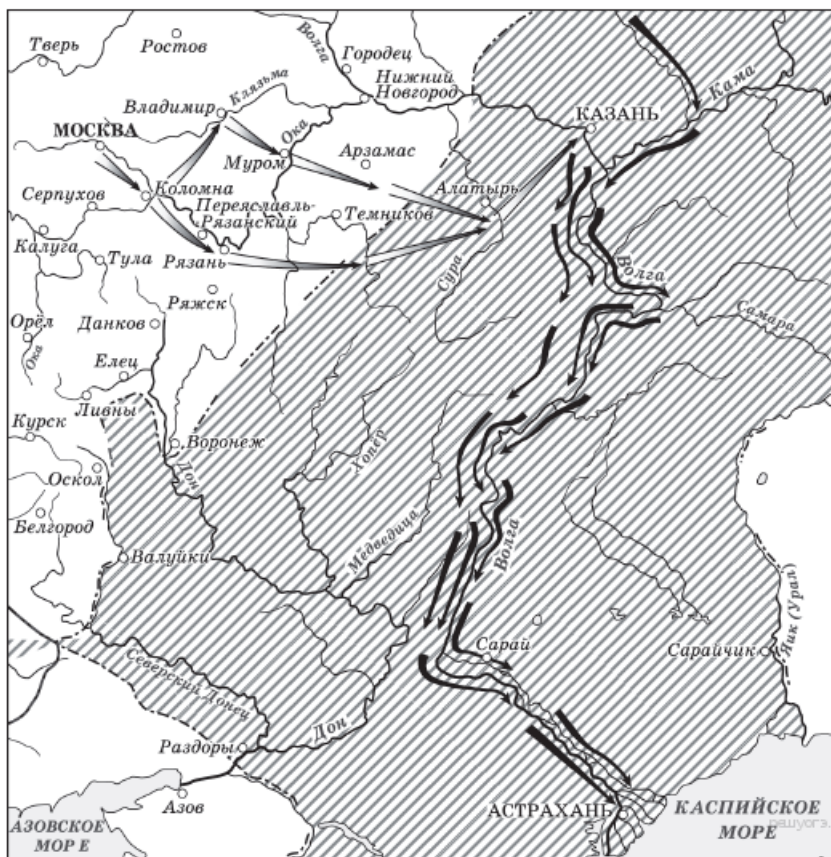
Правильный ответ указан под номером 1.

Ответ: 1

· [Видеокурс](#)

20. Задание 20 № 756

Рассмотрите схему и ответьте на вопрос.



Когда состоялись военные походы русского войска, обозначенные на схеме стрелками?

- 1) в начале XV в.
- 2) в конце XV в.
- 3) в середине XVI в.
- 4) в конце XVI в.

Пояснение.

На схеме показаны походы Ивана IV по завоеванию Казани и Астрахани 1552 и 1556 гг.

Правильный ответ указан под номером 3.

Ответ: 3

· [Видеокурс](#)

21. Задание 21 № 1609

Кто из советских композиторов был автором Седьмой (Ленинградской) симфонии, созданной в 1941 г.?

- 1) Д.Д. Шостакович
- 2) И.О. Дунаевский
- 3) А.И. Хачатурян
- 4) С.С. Прокофьев

Пояснение.

Д. Шостакович в годы ВОВ создал свою знаменитую Седьмую симфонию в блокадном Ленинграде.


Правильный ответ указан под номером 1.

Ответ: 1

· [Видеокурс](#)

22. Задание 22 № 967

Рассмотрите изображение и выполните задание.



Укажите век, к которому относятся изображенные на картине Н. Ге события.

- 1) XVI в.
- 2) XVII в.
- 3) XVIII в.
- 4) XIX в.

Пояснение.

На картине изображены Петр I и его сын царевич Алексей.

Правильный ответ указан под номером 3.

Ответ: 3

· [Видеокурс](#)

23. Задание 23 № 1038

Расположите в хронологическом порядке следующие события. Укажите ответ в виде последовательности цифр выбранных элементов:

- 1) церковный раскол
- 2) создание Святейшего Синода
- 3) присоединение Крыма к России
- 4) создание стрелецкого войска

Пояснение.

- 1) церковный раскол около — 1650 г.
- 2) создание Святейшего Синода — 1721 г.
- 3) присоединение Крыма к России — 1783 г.
- 4) создание стрелецкого войска — 1550 г.

Ответ: 4123.

Ответ: 4123

· [Видеокурс](#)

24. Задание 24 № 2079

Установите соответствие между правителями России и событиями, связанными с их деятельностью: к каждому элементу первого столбца подберите соответствующий элемент из второго столбца.

ПРАВИТЕЛИ РОССИИ

- А) Иван III
- Б) Василий III
- В) Иван IV

СОБЫТИЯ

- 1) создание первого общерусского Судебника
- 2) присоединение к Московскому государству Смоленска
- 3) созыв первого Земского собора
- 4) учреждение патриаршества в России

Запишите в ответ цифры, расположив их в порядке, соответствующем буквам:

А	Б	В

Пояснение.

- А) Иван III — создание первого общерусского Судебника.
- Б) Василий III — присоединение к Московскому государству Смоленска.
- В) Иван IV — созыв первого Земского собора.

Ответ: 123.

Ответ: 123

· [Видеокурс](#)

25. Задание 25 № 1456

Какие из перечисленных городов вошли в состав России в XVI в.? Найдите в приведённом ниже списке два города и запишите цифры, под которыми они указаны.

- 1) Киев
- 2) Выборг
- 3) Казань
- 4) Рига
- 5) Астрахань

Пояснение.

В 1552 г. — Казань, в 1556 г. — Астрахань.

Ответ: 35.

Ответ: 35

· [Видеокурс](#)

26. Задание 26 № 131

Используя данные статистической таблицы, завершите представленные ниже суждения, соотнеся их начала и варианты завершения.

Доля машинного и ручного труда в российской экономике в 80-е гг. XIX в.

	Текстильное производство	Сахароварение	Мебельное производство
Фабрично-заводское производство	58%	90%	35%
Мануфактурное и ремесленное производство	42%	10%	65%

НАЧАЛО СУЖДЕНИЯ

- А) В 1880-е гг. ручной труд преобладал в производстве
 Б) Наибольшей степенью механизации отличалось производство
 В) В текстильном производстве преобладающим был

ВАРИАНТЫ ЗАВЕРШЕНИЯ СУЖДЕНИЯ

- 1) мебели
 2) ручной труд
 3) сахара
 4) машинный труд
 5) тканей

Запишите в ответ цифры, расположив их в порядке, соответствующем буквам:

А	Б	В

Пояснение.

- А) В 1880-е гг. ручной труд преобладал в производстве мебели.
 Б) Наибольшей степенью механизации отличалось производство сахара
 В) В текстильном производстве преобладающим был машинный труд.

Ответ: 134.

Ответ: 134

· [Видеокурс](#)

27. Задание 27 № 1977

Запишите название, о котором идёт речь.

Под этим названием вошла в историю делегация, направленная Петром I в Европу в целях создания союза европейских государств против Османской империи.

Пояснение.

Речь идет о Великом посольстве.

Ответ: Великое посольство.

Ответ: Великоепосольство

· [Видеокурс](#)

28. Задание 28 № 1389

Сравните политическую систему СССР в конце 1930-х гг. и в период 1945–1953 гг. Выберите и запишите в первую колонку порядковые номера черт сходства, а во вторую — порядковые номера черт различия.

- 1) существование однопартийной политической системы
- 2) деятельность высшего органа исполнительной власти — Совета Министров СССР
- 3) высший законодательный орган — Верховный Совет СССР, состоящий из Совета Союзов и Совета Национальностей
- 4) осуществляется борьба с «безродным космополитизмом» и «низкопоклонством перед Западом»

Черты сходства	Черты различия

Пояснение.

Сходства: однопартийная система и высший орган — Верховный Совет.

Различия: Совет Министров появился в 1946 г., борьба с космополитами тоже началась в послевоенное десятилетие.

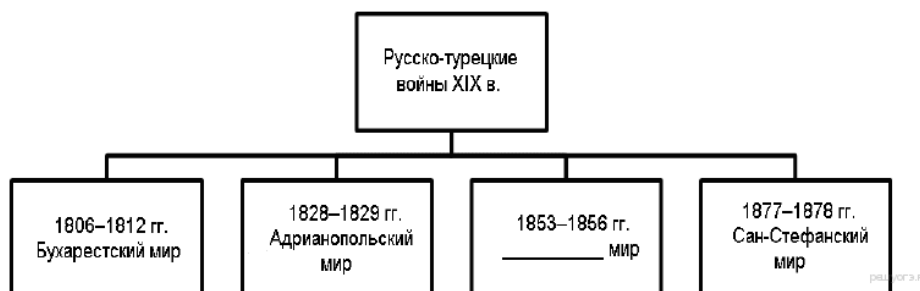
Ответ: 1324.

Ответ: 1324

· [Видеокурс](#)

29. Задание 29 № 1872

Запишите название, пропущенное в схеме.



Пояснение.

По окончании Крымской войны 1853–1856 гг. был подписан Парижский мир.

Ответ: Парижский.

Ответ: Парижский

· [Видеокурс](#)

30. Задание 30 № 100

Ниже приведён перечень названий русских городов. Все они, за исключением одного, были разорены монгольскими захватчиками в XIII в.

- 1) Новгород
- 2) Киев
- 3) Рязань
- 4) Владимир
- 5) Козельск

Найдите и запишите порядковый номер термина, «выпадающего» из данного ряда.

Пояснение.

Новгород не был разрушен, монголы не дошли до него около сотни верст по неизвестным причинам повернули назад.

Правильный ответ указан под номером 1.

Ответ: 1

· [Видеокурс](#)

31. Задание 31 № 451

Укажите год, когда происходили описываемые события. Назовите императора, подписавшего манифест, упоминаемый в отрывке.

Из сочинения историка

«Совет решил, что пришло время действовать, и назначил на 7 декабря начало всеобщей политической забастовки и восстания, которое должно было свергнуть царскую власть. Несмотря на поддержку значительного числа бастующих, Совету всё же не удалось, как в октябре, остановить работу жизненно важных отраслей, в частности железнодорожного транспорта. Восстание было обречено. За четыре дня (15—18 декабря) войска под командованием адмирала Дубасова сумели расправиться с очагами восстания, во главе которых стояли боевые отряды большевиков, сконцентрированными главным образом в районе Пресни.

Власти, ощутив свою силу в борьбе с социальной революцией, решились начать наступление на права и свободы населения. Первая из обещанных Манифестом 17 октября свобод — неприкосновенность личности — была не более чем пустым звуком, ибо кругом шли аресты подозреваемых. За один только декабрь в столице было арестовано около 2 тыс. человек. Весной общее число заключённых в тюрьмы и высланных превысило 50 тыс. человек. Такого количества репрессированных при царской власти ещё никогда не было.

Право на забастовку фактически сводилось на нет законом от 2 декабря, запрещающим бастовать государственным служащим, служащим общественных учреждений и рабочим предприятий, жизненно важных для экономики страны.

О свободе слова и говорить было нечего. Как могла она сочетаться с законом от 13 февраля, согласно которому можно было подвергнуть преследованиям любое лицо, виновное в «антиправительственной пропаганде»».

Пояснение.

В ответе должны быть указаны следующие элементы:

- 1) год — 1905 г.;
- 2) император — Николай II.

Критерии проверки:

Критерии оценивания выполнения задания	Баллы
Правильно указаны год и руководитель Правительства	2
Правильно указан год. ИЛИ Правильно указан руководитель Правительства	1
Ответ неверный	0
<i>Максимальный балл</i>	2

· [Видеокурс](#)

32. Задание 32 № 452

Во втором абзаце отрывка найдите и запишите предложение, где описывается ситуация, признаки которой указываются в дальнейшем тексте. Выпишите не менее двух признаков

данной ситуации.

Пояснение.

В ответе должно быть указано предложение: «Власти, ощутив свою силу в борьбе с социальной революцией, решились начать наступление на права и свободы населения».

Могут быть указаны следующие признаки:

- 1) нарушается неприкосновенность личности;
- 2) нарушается свобода слова;
- 3) рабочие лишены права на забастовку.

Критерии проверки:

Критерии оценивания выполнения задания	Баллы
Правильно указаны предложение (или в иных формулировках верно передан его смысл) и два факта	2
Правильно указаны предложение (или в иных формулировках верно передан его смысл) и один факт	1
Правильно указано только предложение (или в иных формулировках верно передан его смысл). ИЛИ Правильно указаны только факты (любое количество). ИЛИ Ответ неверный	0
<i>Максимальный балл</i>	2

· [Видеокурс](#)

33. Задание 33 № 1464

После смерти великого князя Святополка Изяславича в Киеве вспыхнуло народное восстание. Восставшие, по предложению боярства, решили призвать на киевский престол переяславского князя.

- 1) Укажите год, когда произошли события, о которых идёт речь.
- 2) Назовите князя, вступившего на киевский престол по приглашению восставших.
- 3) Какая мера была предпринята приглашённым князем для устранения причин, спровоцировавших восстание?

Пояснение.

Правильный ответ должен содержать следующие элементы:

- 1) год — 1113 г.;
 - 2) князь — Владимир Мономах;
 - 3) мера, например: облегчение положения должников путём законодательного ограничения произвола ростовщиков (издание Устава Владимира Мономаха).
- Может быть названа другая верная мера.

Критерии проверки:

Критерии оценивания выполнения задания	Баллы
Правильно указаны год, князь и мера	3
Верно названы любые два элемента ответа	2
Верно назван любой один элемент ответа	1
Ответ неверный	0
<i>Максимальный балл</i>	3

· [Видеокурс](#)

34. Задание 34 № 1588

Существует точка зрения, что некоторые черты системы управления Московского государства в середине XVI в. и в середине XVII в. были сходны. Приведите не менее двух фактов, положений, подтверждающих это сходство.

Пояснение.

Могут быть приведены факты (положения):

- 1) в оба периода во главе государства стоял монарх;
- 2) в оба периода в Московском государстве существовала система приказов;
- 3) в оба периода созывались Земские соборы;
- 4) в оба периода функционировала Боярская дума;
- 5) на местах управляли чиновники, присланные из центра (наместники и воеводы).

Могут быть приведены другие факты (положения).

Критерии проверки:

Критерии оценивания выполнения задания	Баллы
Верно приведены два факта (положения).	2
Верно приведён один факт (положение).	1
Приведены рассуждения общего характера, не соответствующие требованию задания. ИЛИ Ответ неверный.	0
<i>Максимальный балл</i>	2

· [Видеокурс](#)

35. Задание 35 № 1396

Вам поручено подготовить развёрнутый ответ по теме «Свержение ордынского владычества». Составьте план, в соответствии с которым вы будете освещать эту тему. План должен содержать не менее трёх пунктов. Напишите краткое пояснение содержания любых двух пунктов. План с пояснениями должен отразить основные события (явления), связанные с ликвидацией ордынского владычества.

Пояснение.

Если Вы затрудняетесь в составлении плана, который бы полностью раскрывал данную тему, то можете выбрать один из существенных вопросов (разделов, направлений, проблем) темы. Напишите заголовок плана по выбранному Вами вопросу (разделу, направлению, проблеме) и составьте план, раскрывающий его содержание, соблюдая все требования к количеству пунктов плана и пояснений.

При анализе ответа учитывается: количество пунктов плана и пояснений к ним; корректность формулировок пунктов плана с точки зрения их соответствия заданной теме; корректность пояснений к пунктам плана (полнота представленной информации и отсутствие фактических ошибок).

План по отдельному вопросу (разделу, направлению, проблеме) данной в задании темы оценивается по тем же критериям, что и план ответа по всей теме. Ориентиром для эксперта является название плана (вопрос, раздел, направление, проблема), указанное экзаменуемым. В случае если выпускник не озаглавил свой план (не указал вопрос, раздел, направление, проблему), то эксперт проверяет работу как план по теме, данной в задании.

Один из вариантов плана раскрытия данной темы:

1. Объединение русских земель вокруг Москвы и начало распада Золотой Орды.

Завершающий этап объединения русских земель: необходимость окончательного восстановления независимости Руси: распад Золотой Орды в XV веке: отказ Ивана III от уплаты дани.

2. Объединение военных сил бывшей Золотой Орды ханом Ахматом для похода на Русь. Союз Орды и Литвы.

3. 1480 г. — стояние на реке Угре. 8 октября 1480 г. ордынские войска подошли к реке Угре — притоку Оки. Войско московского князя Ивана III преградило путь ордынцам на другом берегу. Не получив обещанной военной помощи от Литвы, Ахмат, после первой неудачной попытки переправиться через реку, в бой вступать уже не решался. Больше месяца стояли войска на противоположных берегах Угры, и Ахмат был вынужден повернуть обратно.

4. Итоги стояния на реке Угре

а) победа русских войск в противостоянии на реке Угре в 1480 г. привела к окончательной ликвидации 240-летнего ордынского владычества;

б) восстановление независимости позволило завершить политическое объединение Русских земель;

в) поражение войск хана Ахмата привело к окончательному распаду и прекращению существования Золотой Орды.

Возможно другое количество и (или) иные корректные формулировки пунктов плана. Они могут быть представлены в назывной, вопросной или смешанной формах. Пояснения могут быть приведены в форме подпунктов (п. 3), нумерованного перечня позиций (п. 2), комментариев в свободной форме (п. 1).

Критерии проверки:

Критерии оценивания выполнения задания	Баллы
План содержит не менее трёх пунктов, к двум из которых даны пояснения. Формулировки пунктов плана и пояснений отражают содержание темы (выбранного вопроса); в пояснениях без фактических ошибок приведены основные исторические события, раскрывающие содержание пунктов плана	3
План содержит не менее трёх пунктов, к одному из которых дано пояснение. Формулировки пунктов плана и пояснения отражают содержание темы (выбранного вопроса); в пояснении без фактических ошибок приведены основные исторические события, раскрывающие содержание пункта плана. ИЛИ План содержит два пункта, к обоим даны пояснения. Формулировки пунктов плана и пояснений отражают содержание темы (выбранного вопроса); в пояснениях без фактических ошибок приведены основные исторические события, раскрывающие содержание пунктов плана. ИЛИ План содержит не менее трёх пунктов, к двум из которых даны пояснения.	2

<p>Формулировки пунктов плана отражают содержание темы (выбранного вопроса). В пояснениях к одному-двум пунктам плана наряду с верными позициями содержатся фактические ошибки, существенно не искажающие ответа; ИЛИ в пояснениях к одному-двум пунктам плана представлены верные, но не основные, а только частные факты, не в полной мере раскрывающие содержание пунктов плана</p>	
<p>План содержит не менее трёх пунктов без пояснений; ИЛИ в качестве пояснений приведены рассуждения общего характера, не содержащие конкретной информации по теме. Формулировки пунктов плана отражают содержание темы (выбранного вопроса) и не содержат фактических ошибок. ИЛИ План содержит два пункта, к одному из которых дано пояснение. Формулировки пунктов плана и пояснения отражают содержание темы (выбранного вопроса); без фактических ошибок приведены основные исторические события, раскрывающие содержание пунктов плана. ИЛИ План содержит не менее трёх пунктов, к одному из которых дано пояснение. Формулировки пунктов плана отражают содержание темы (выбранного вопроса). В пояснении к пункту плана наряду с верными позициями содержатся фактические ошибки, существенно не искажающие ответа; ИЛИ в пояснениях к пункту плана представлены верные, но не основные, а только частные факты, не в полной мере раскрывающие содержание пунктов плана. ИЛИ План содержит не менее двух пунктов, к обоим дано пояснение. Формулировки пунктов плана и пояснений в целом отражают содержание темы (выбранного вопроса), но допущена одна фактическая ошибка, значительно искажающая её содержание. ИЛИ Пункты плана имеют общий характер и не отражают содержания темы (выбранного вопроса), но приведённые к трём (или более) пунктам пояснения не содержат фактических ошибок и раскрывают некоторые аспекты темы</p>	1
<p>План содержит два пункта без пояснений; ИЛИ в качестве пояснений приведены рассуждения общего характера, не содержащие конкретной информации по теме. ИЛИ План содержит менее двух пунктов независимо от качества пояснений. ИЛИ Пункты плана не отражают содержания темы (выбранного вопроса). Приведенные к одному-двум пунктам пояснения не содержат фактических ошибок и раскрывают некоторые аспекты темы. ИЛИ В пунктах плана и пояснениях допущено две или более фактические ошибки, искажающие содержание темы. ИЛИ План отражает вопрос (раздел, направление, проблему), который не является составной частью темы, указанной в задании</p>	0
<p><i>Максимальный балл</i></p>	3

· [Видеокурс](#)

Ключ

№ п/п	№ задания	Ответ
1	1660	2
2	1661	3
3	1988	3
4	1054	3
5	670	1
6	1522	3
7	742	3
8	568	4
9	464	2
10	150	3
11	1565	2
12	852	1
13	1494	2
14	854	4
15	1446	3
16	1111	4
17	717	4
18	228	1
19	509	1
20	756	3
21	1609	1
22	967	3
23	1038	4123
24	2079	123
25	1456	35
26	131	134
27	1977	Великоепосольство
28	1389	1324
29	1872	Парижский
30	100	1